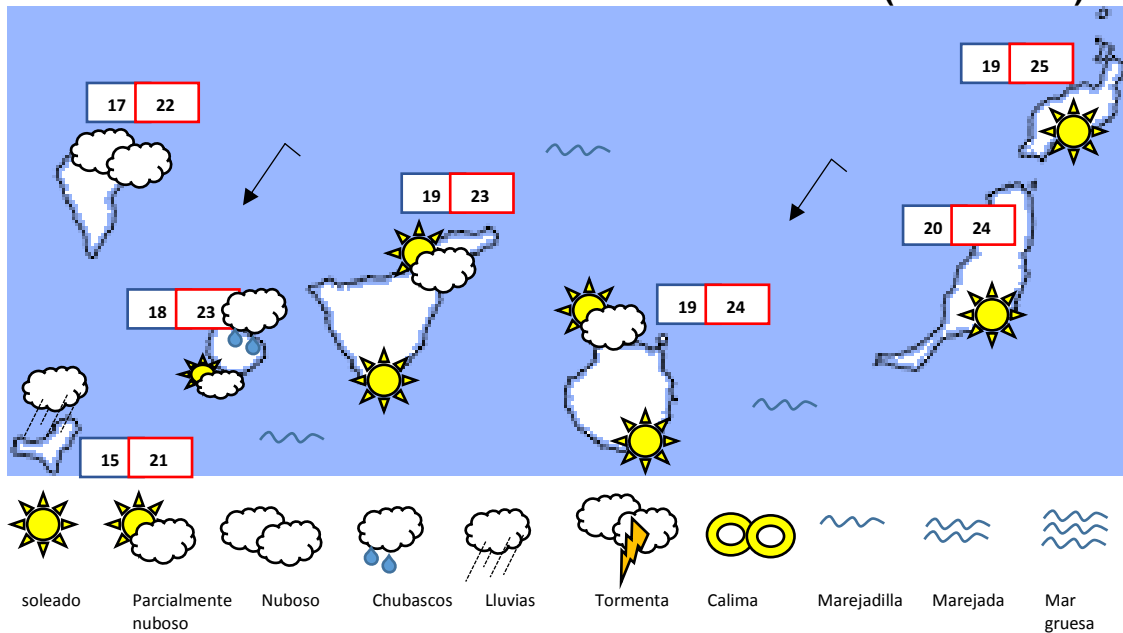


Nombre: _____ N° Lista: _____

INTERPRETACIÓN DE MAPAS METEOROLÓGICOS Y REALIZACIÓN DE GRÁFICOS DE TEMPERATURAS (MARTES 21)




Según el mapa meteorológico, estará _____ en La Palma. Habrá _____ en El Hierro. Al norte de La Gomera tendremos _____, mientras que en el sur estará _____.

En las islas de Tenerife y Gran Canaria, estará _____ por el sur y _____ por el norte. En Lanzarote y Fuerteventura estará _____.


Atendiendo al estado del mar, parece ser que habrá _____.

La temperatura más alta se registrará en _____ y la más baja en _____. Los vientos serán flojos.

Elabora un gráfico de barras con las temperaturas máximas de cada isla:



Pinta los termómetros con las temperaturas mínimas de cada isla:



Completa este mapa meteorológico dibujando símbolos. Luego, practica oralmente explicándolo de forma similar al texto anterior.

